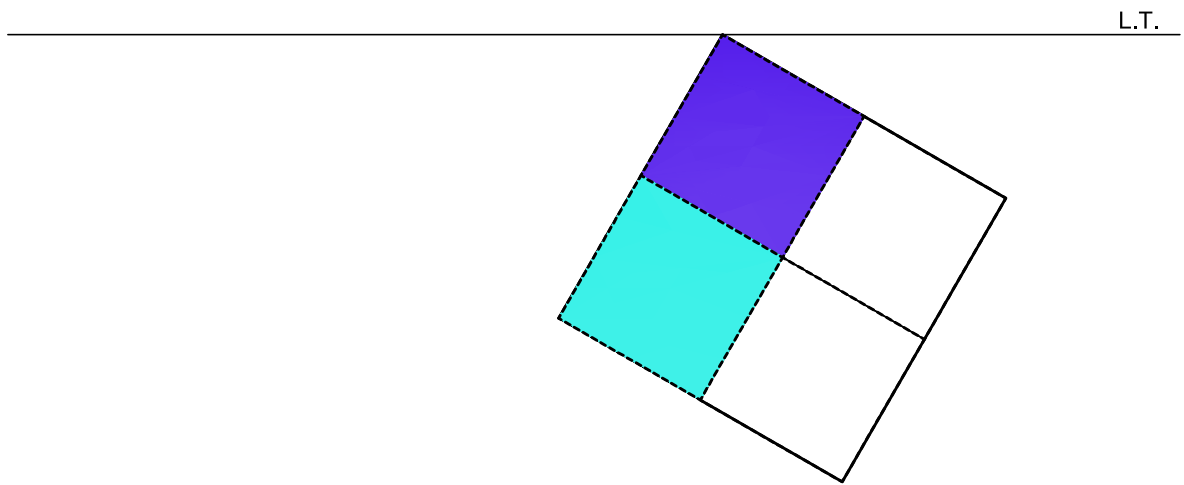
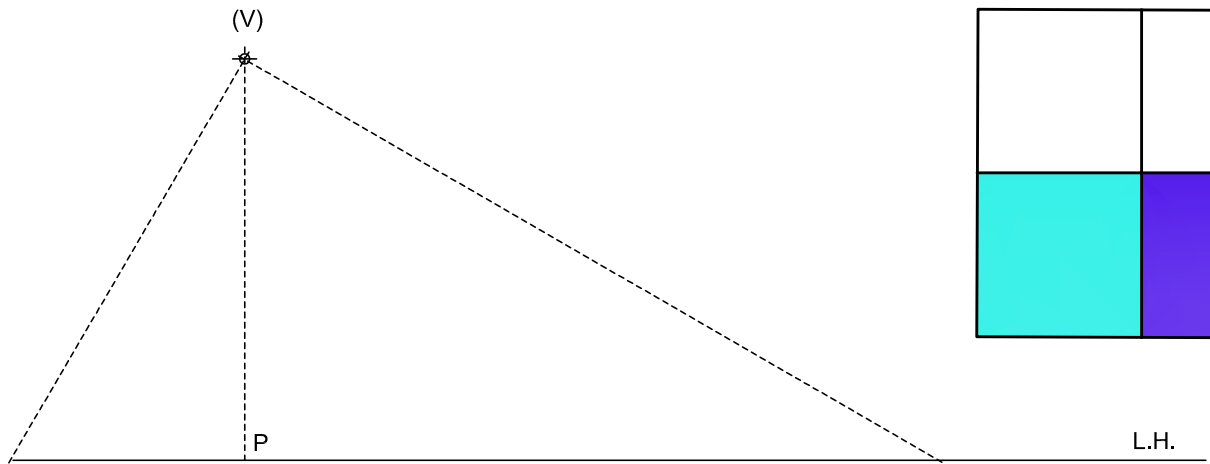
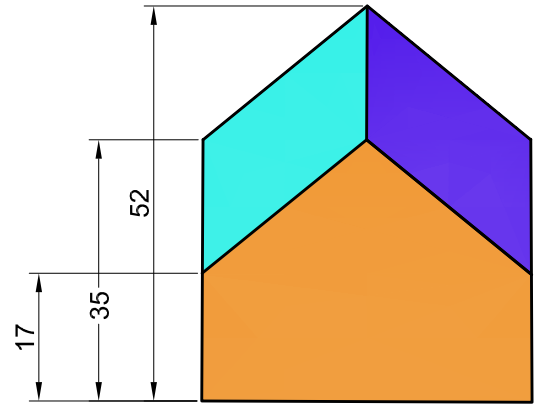


108. Completa la perspectiva anterior, a partir del abatimiento de su planta sobre el plano del cuadro. Cuando tengas dibujada la planta en perspectiva, situa las cotas en posición correcta.



IES MIGUEL DE CERVANTES. GRANADA. EPV. 4º ESO. CURSO 2012/2013. DEPARTAMENTO DE DIBUJO. PROFESOR JUAN CARLOS LAZÚEN

No suprimir el trazado auxiliar. Líneas auxiliares a 0,2. Resultados a 0,8 o rotulador Edding 1200. Todos los trazados y el nombre, en color negro.



Nombre: \_\_\_\_\_

Lámina 93

4º ESO

Perspectiva cónica 5

Calificación