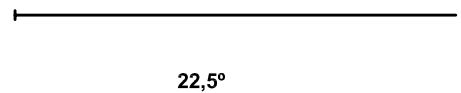

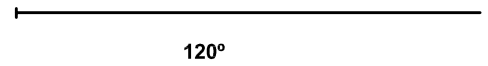

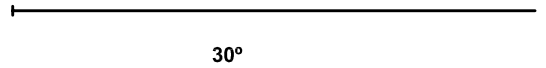



18. Construir utilizando exclusivamente las plantillas y el compás, los ángulos que se indican, haciendo coincidir el vértice con el origen de cada una de las semirrectas representadas.



No suprimir el trazado auxiliar. Líneas auxiliares a 0,2. Resultados a 0,8 o rotulador Edding 1200. Todos los trazados y el nombre, en color negro.



Nombre: _____

Lámina 6

4º ESO

Construcciones fundamentales. Construcción de ángulos

Calificación