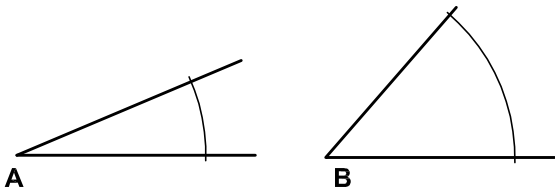


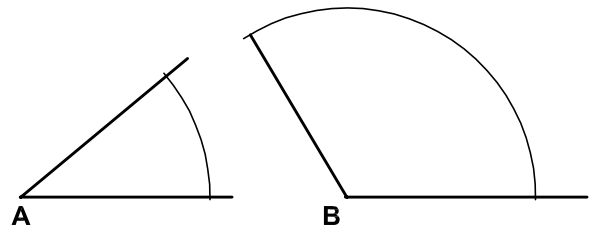


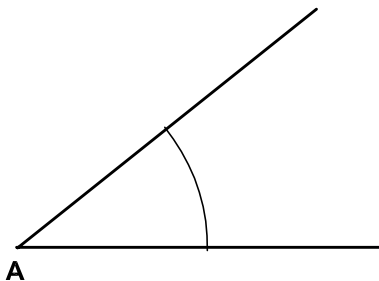
14. Hallar gráficamente la suma de los ángulos A y B dados. Realizar la operación sobre la semirrecta R, a partir del punto P.



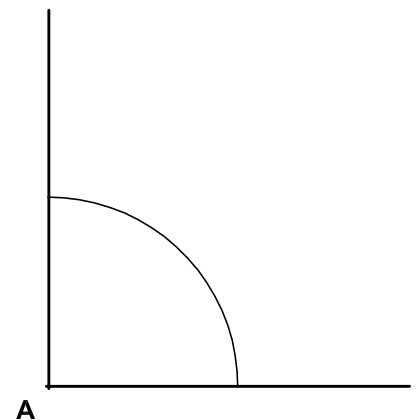
15. Hallar gráficamente la diferencia entre los ángulos A y B dados. Realizar la operación sobre la semirrecta R, a partir del punto P.



16. Hallar la bisectriz del ángulo A.



17. Dividir el ángulo recto A en 3 ángulos iguales de 30° cada uno.



No suprimir el trazado auxiliar. Líneas auxiliares a 0,2. Resultados a 0,8 o rotulador Edding 1200. Todos los trazados y el nombre, en color negro.



Nombre: _____

Lámina 5

4º ESO

Construcciones fundamentales. Ángulos

Calificación