
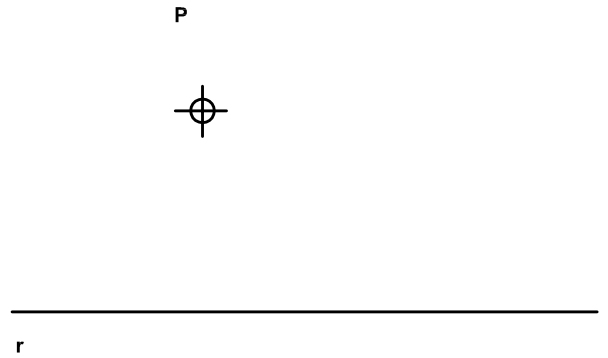


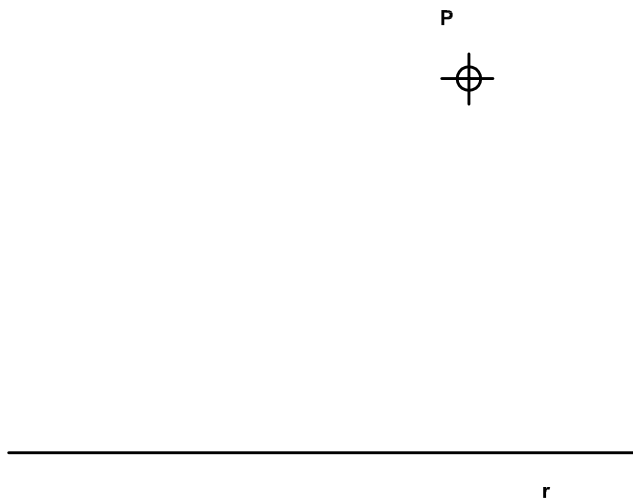
4. Trazar una recta paralela a la recta R, representada, a 30 mm. de distancia, utilizando exclusivamente la regla graduada, la escuadra y el cartabón.




5. Trazar una recta paralela a la recta R, representada, usando la regla y el compás, con la condición de que contenga al punto P.



6. Trazar una recta paralela a la recta R, representada, que pase por el punto P, usando exclusivamente la escuadra y el cartabón.



7. Trazar 2 rectas paralelas a la recta R que equidisten de ella una distancia igual al segmento dado AB.



No suprimir el trazado auxiliar. Líneas auxiliares a 0,2. Resultados a 0,8 o rotulador Edding 1200. Todos los trazados y el nombre, en color negro.



Nombre: \_\_\_\_\_

Lámina 2

4º ESO

Construcciones fundamentales. Paralelismo

Calificación