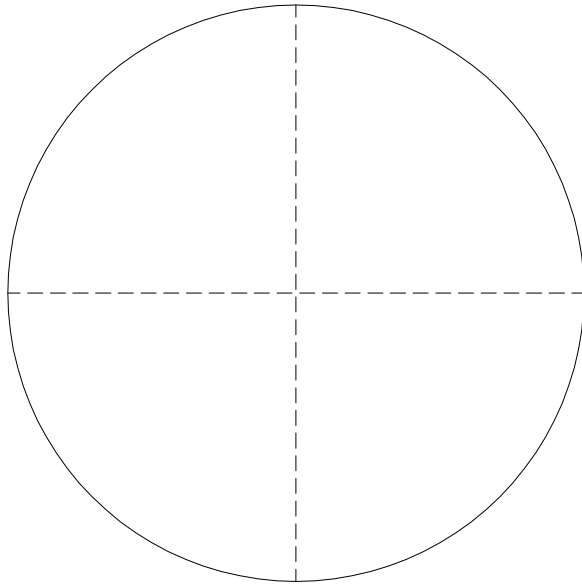
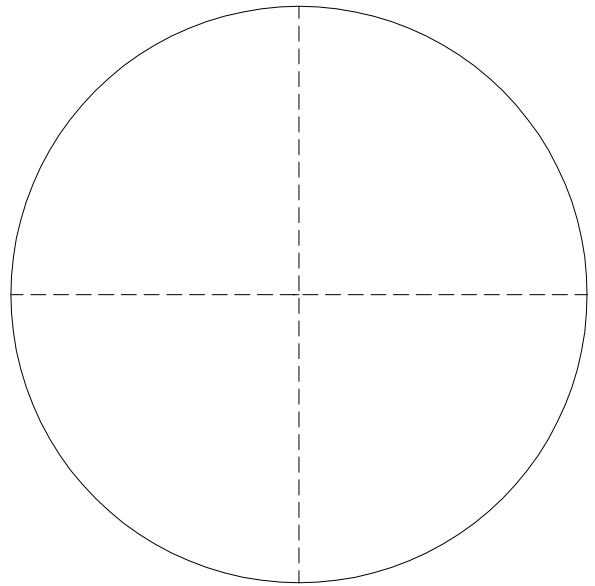


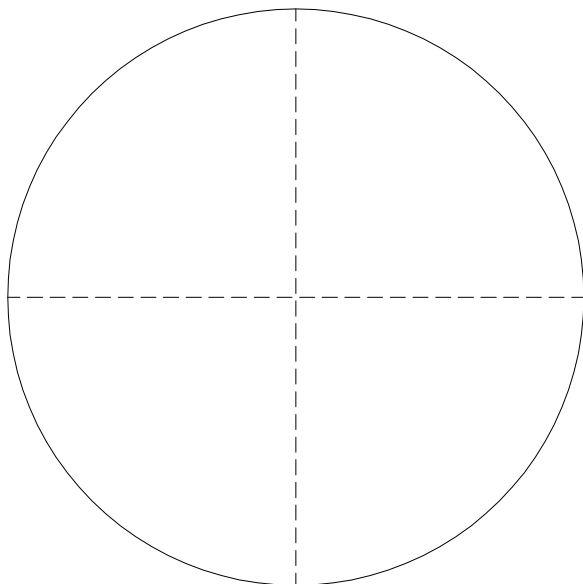
42. Construir los polígonos representados en la lámina anterior dejando constancia de todos los trazados utilizados.



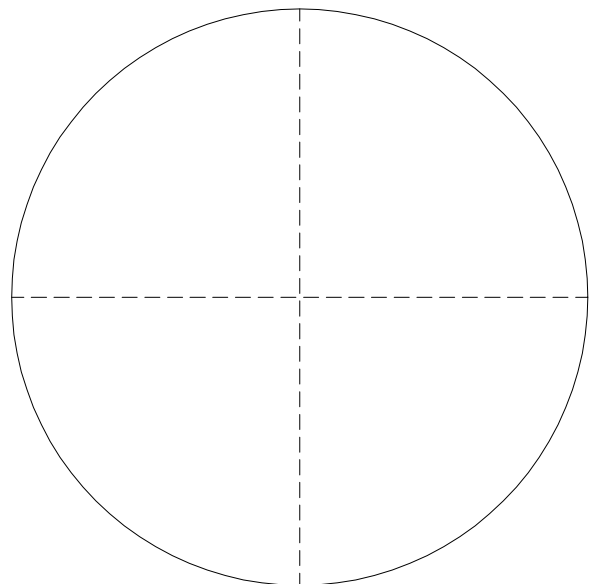
PENTÁGONO



HEXÁGONO



HEPTÁGONO



OCTÓGONO

PROFESOR JUAN CARLOS LAZÚEN

IES MIGUEL DE CERVANTES. GRANADA. EPV. 4º ESO. CURSO 2012/2013. DEPARTAMENTO DE DIBUJO.

No suprimir el trazado auxiliar. Líneas auxiliares a 0,2. Resultados a 0,8 o rotulador Edding 1200. Todos los trazados y el nombre, en color negro.



Nombre: _____

Lámina 26

4º ESO

Polígonos Regulares 4

Calificación