




40. Construir los polígonos de la lámina anterior (pentágono, hexágono y heptágono) a partir del lado **AB** indicado, dejando constancia de todas las construcciones realizadas.




Pentágono

Hexágono



Heptágono



No suprimir el trazado auxiliar. Líneas auxiliares a 0,2. Resultados a 0,8 o rotulador Edding 1200. Todos los trazados y el nombre, en color negro.



Nombre: _____

Lámina 24

4º ESO

Polígonos Regulares 2

Calificación