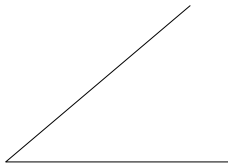

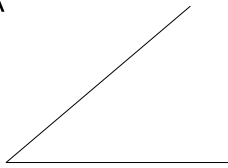




34. Construir un rombo conocido el lado **AB** y uno de sus ángulos. Situar el lado sobre la semirrecta *r* a partir del punto **A**



34. Construir un romboide conociendo el lado mayor **AD**, el lado menor **AB** y el ángulo comprendido. Situar el lado **AD** sobre la semirrecta *r* a partir del punto **A**



No suprimir el trazado auxiliar. Líneas auxiliares a 0,2. Resultados a 0,8 o rotulador Edding 1200. Todos los trazados y el nombre, en color negro.



Nombre: _____

Lámina 20

4º ESO

Cuadriláteros 1

Calificación