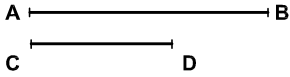

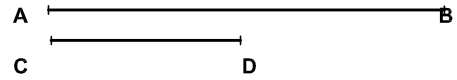


1. Determinar gráficamente $AB + CD$



2. Determinar gráficamente $AB - CD$



3. Aplicando el teorema de Tales, dividir el segmento AB en 7 partes iguales.



No suprimir el trazado auxiliar. Líneas auxiliares a 0,2. Resultados a 0,8 o rotulador Edding 1200. Todos los trazados y el nombre, en color negro.



Nombre: _____

Lámina 1

4º ESO

Construcciones fundamentales. Operaciones con segmentos

Calificación