

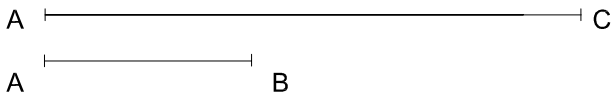


32. Construir un cuadrado de lado el segmento **AB**, sobre la semirrecta r a partir del punto **A** indicado



33. Construir un rectángulo, sabiendo que el segmento **AC** es una de sus diagonales, y que el segmento **AB** es uno de sus lados menores. Situar el segmento **AC** sobre la semirrecta r a partir del punto **A**.



No suprimir el trazado auxiliar. Líneas auxiliares a 0,2. Resultados a 0,8 o rotulador Edding 1200. Todos los trazados y el nombre, en color negro.



Nombre: _____

Lámina 19

4º ESO

Cuadriláteros 1

Calificación